

Texto para as questões 01 e 02.

No ano passado, um novo-rico, frequentador pela primeira vez do Rodeio, aproximou-se da mesa de alguns conhecidos e, apontando para um dos quadros de certo pintor que estavam em exposição nas paredes do restaurante, perguntou: “Gostam?” Diante das respostas predominantemente afirmativas, disparou triunfal: “Acabo de comprar todos”.

01- A última frase do texto sugere:

- A) que o novo-rico tinha sensibilidade estética indiscutivelmente refinada.
- B) que o poder econômico manipula a opinião de qualquer indivíduo.
- C) que o dono do restaurante dava apoio incondicional aos artistas consagrados.
- D) que o poder aquisitivo costuma estar mais ligado à ostentação, ao exibicionismo que à sensibilidade artística.
- E) que o reconhecimento do valor de um artista tem a ver com a quantidade de quadros que ele vende em uma exposição.

02- O texto acima apenas não dá resposta à pergunta:

- A) Onde ocorreu o fato?
- B) Qual foi o valor pago pela totalidade dos quadros?
- C) Quando ocorreu o fato?
- D) Há diálogo entre personagens?
- E) Onde os quadros estavam?

Texto para as questões 03 e 04.

Mãos Dadas

“Não serei o poeta de um mundo caduco.
Também não cantarei o mundo futuro.
Estou preso à vida e olho meus companheiros.
Estão taciturnos, mas nutrem grandes esperanças.
Entre eles, considero a enorme realidade.
O presente é tão grande, não nos afastemos.
Não nos afastemos muito, vamos de mãos dadas.”

(Carlos Drummond de Andrade)

03- O texto procura convencer-nos de que:

- A) é inútil a nossa preocupação com o mundo porque ele está perto do fim.
- B) a solidariedade e a união fazem com que a vida presente valha a pena.
- C) o mundo é perigoso, é um inimigo do qual temos de nos defender.
- D) o mundo está tão perdido que nem vale a pena pensar em seu futuro.
- E) a vida é uma prisão a que inevitavelmente estamos condenados.

04-Assinale a informação que não está adequada ao texto:

- A) O título do poema sugere uma forma de carinho.
- B) O poema tem muito a ver com a solidariedade entre as pessoas.
- C) Existe esperança nas pessoas ao redor do eu-lírico.
- D) Ao eu-lírico interessa acima de tudo o tempo presente.
- E) O eu-lírico está decepcionado com o passado e, antecipadamente, com o futuro.

05-“Os corações também têm orelhas, e estejam certos de que cada um de nós ouve não conforme tem os ouvidos, mas conforme tem o coração e a inclinação.”

Não está de acordo com o texto:

- A) As pessoas interpretam o que ouvem mais de acordo com sua própria sensibilidade do que segundo uma análise objetiva.
- B) Cada pessoa tem sua própria verdade, a qual pode ser modificada dependendo da inclinação momentânea dos sentimentos.
- C) O sangue faz o coração bater obedecendo ao ritmo das ondas sonoras que incidem em nosso espírito.
- D) Conforme as circunstâncias, inclinamo-nos a acreditar em alguma coisa levados mais pelos sentimentos do que pela razão.
- E) Nem sempre julgamos segundo a evidência dos fatos ou dados da consciência, frequentemente somos levados pelas emoções, pelos sentimentos.

Texto para as questões 06 e 07

“O homem rotineiro desaprova todo empreendimento vigoroso. As ditaduras nascem das crises de vitalidade dos povos e sobretudo da sua imobilidade perante as controvérsias que eles têm de conhecer.”

06- Entende-se por “homem rotineiro”:

- A) Uma pessoa sem profissão, sem emprego fixo.
- B) O profissional que trabalha por hora e, às vezes, por dia.
- C) O indivíduo que dificilmente muda os seus hábitos, o seu dia a dia.
- D) O indivíduo inovador, irrequieto, aquele que está sempre em atividade.
- E) Uma pessoa cautelosa, marcada pelo equilíbrio em tudo o que fala.

07- Conclui-se do texto que:

- A) a excessiva vitalidade dos povos e o consumismo das pessoas favorecem a implantação das ditaduras militares.
- B) a acomodação do homem no seu dia a dia inibe a sua capacidade crítica diante das situações inesperadas.
- C) qualquer imprevisto leva o homem rotineiro a valer-se de alguns tipos de fuga, como viagens, dormir em demasia, fechar-se em seus aposentos.
- D) regimes ditatoriais atualmente não existem porque hoje ninguém mais fica deslumbrado perante o exibicionismo dos governantes.
- E) as críticas abertas e constantes do homem rotineiro aos ditadores não afetam o governo, mas prejudicam o progresso da nação.

08- Observe a fala de uma pessoa de pouca escolaridade e assinale a alternativa que melhor a transpõe para uma linguagem urbana mais próxima da norma culta: —“Com perdão da pergunta, mas será que mecê num tem por lá alguma enxada assim mais velha pra empréstá um bocadinho pra gente?”.

- A) —“Me perdoa de perguntar, mas será que Vossa Senhoria não tem por lá uma enxada

assim mais velha que a gente pudesse usar um pouco?”

- B) —“Adesculpe a franqueza da gente perguntar para o senhor, mas o senhor não tem alguma coisa tipo enxada, pode ser bem velha, pra emprestar um tempinho para nós?”

- C) —“Me perdoa a ignorância, mas será que o senhor não poderia ceder para nós uma enxada que tenho certeza que o senhor tem por lá, pode ser até uma meia velha?”

- D) —“Desculpe-nos a pergunta, mas o senhor não teria uma enxada, mesmo meio velha, para nos emprestar por algum tempo?”

- E) —“Desculpe-me a mim esta pergunta indiscreta, mas será que você não tem alguma enxada assim do tipo meia velha para nos emprestar por uns dias?”

09-“—Sabe aquele cara ali?

—Sei.

—Ele tá ... também. Entendeu?

—Nossa! Verdade mesmo?

—Cuidado! Esses aí joga contra. Só enxerga o lado deles.”

São características da linguagem falada, exceto:

- A) ser espontânea.
- B) ser gestual.
- C) ser entrecortada, interrompida com intervalos.
- D) ser truncada, isto é, cheia de expressões incompletas.
- E) ser bem articulada do ponto de vista gramatical.

10- Dadas as frases:

I- Ele conseguiu mais de um livro para eu ler.
II- Não há nem nunca houve nada entre mim e você.

III- Sebastião, o gerente vai chamar-vos agora, mas não perca tua calma.

De acordo com a norma culta da língua, está(ão) correta(s) apenas:

- A) a primeira.
- B) a segunda.
- C) a terceira.
- D) a primeira e a segunda.
- E) a primeira e a terceira.

11- Assinale a alternativa que completa corretamente o período: Trata-se de uma disciplina.....

- A) que gosto e que me destaco.
- B) de que gosto e em que vejo muita utilidade.
- C) que gosto e em que me destaco.
- D) de que gosto e que prefiro mil vezes mais que as outras.
- E) que prefiro mais que todas e que tenho melhor domínio.

12- Assinale a alternativa que completa corretamente as lacunas: “Esta é uma idade a criança já deve reconhecer as pessoas pode confiar”.

- A) que | em que
- B) em que | que
- C) onde | que
- D) pela qual | de que
- E) em que | em que

13- Assinale a alternativa em que as frases abaixo, estruturalmente modificadas, estão em correta relação lógica e sintática.

I- O homem age de forma predatória sobre a natureza.

II- A natureza resiste à atuação predatória do homem.

III- A natureza mantém vivas algumas de suas espécies.

IV- A natureza responde ao homem sob a forma de intempéries imprevisíveis.

- A) A natureza resiste ao homem para manter vivas algumas de suas espécies, às quais também responde com intempéries, ainda que o homem aja de maneira predatória sobre ela.
- B) Como o homem age de forma predatória sobre a natureza, então ela resiste a ele mantendo vivas as suas espécies, para as quais também lhes responde com intempéries imprevisíveis.
- C) Segundo o homem age de maneira predatória sobre a natureza e lhe resiste, ela mantém vivas algumas espécies da fauna e flora, ou também

lhe responde sob a forma de intempéries imprevisíveis.

D) A natureza resiste ao homem que mantém vivas algumas de suas espécies ou que lhe responde com intempéries imprevisíveis, a menos que um não aja de forma predatória sobre o outro.

E) Embora o homem aja de maneira predatória sobre a natureza, ela resiste mantendo vivas algumas de suas espécies e até respondendo-lhe sob a forma de intempéries imprevisíveis.

14-“Feito sob encomenda, o texto de 115 páginas foi entregue à sua editora via e-mail.”

Assinale a alternativa em que qualquer uma das três palavras ou expressões pode substituir o vocábulo destacado (via):

- A) por - por meio de - através de
- B) por meio de - tipo - através
- C) através de - através um - como
- D) através um - através de - exclusivamente tipo
- E) tipo - em - inclusive como

15- “Na verdade, não existem meninos de rua, existem meninos na rua. E toda vez que um menino está na rua é porque alguém o botou lá.”

A troca de de por na determina que a relação de sentido entre menino e rua seja:

- A) de localização e não de condição.
- B) de origem e não de posse ou propriedade.
- C) de instrumento ou matéria e não de localização.
- D) de posse ou propriedade e não de origem
- E) de qualidade e não de localização

INGLÊS

Leia atentamente o texto abaixo e responda às questões 16, 17 e 18.

Energy from the sun

Almost all our energy originally came from the Sun. At the Sun's centre, nuclear reactions provide enormous amounts of energy which radiate from the surface as heat and light. There

is enough nuclear energy left in the Sun to keep it shining for another 5,000 million years. On average, each square metre of the Earth's surface receives the same energy from the Sun as it would do from one-bar electric fire.

16- Qual é o tema do texto?

- A) Energia elétrica
- B) Energia solar
- C) O Sol
- D) A Terra
- E) Energia nuclear

17- No inglês existem palavras que se assemelham muito, na forma de escrever e de falar, a palavras do português. No texto, temos como exemplo energy, centre, nuclear e reactions. A estas palavras damos o nome de:

- A) Palavras irmãs
- B) Falsos cognatos
- C) Cognatos
- D) Idênticas
- E) Estrangeirismo

18- Na frase "THERE IS ENOUGH NUCLEAR ENERGY LEFT IN THE SUN TO KEEP IT SHINNING FOR ANOTHER 5.000 MILLION YEARS." - as palavras grifadas pertencem às respectivas formas nominais:

- A) Infinitivo e gerúndio
- B) Particípio e gerúndio
- C) Simple past e simple future
- D) Immediate future e there to be
- E) Passado e gerúndio

Leia o texto a seguir e responda às questões 19 e 20.

Fatal diseases in the 50's

Children all over the world are facing dangerous times. Until this date, 1953, there was no cure against polio. But besides polio, the triple threat of measles, mumps and chickenpox is forcing doctors to isolate children with these diseases in special rooms in hospitals. A definitive cure or treatment for all these diseases is expected only for the next 10 years.

19- No texto, linha 03, as palavras "Triple threat" se referem a:

- A) Hospitais
- B) Doenças
- C) Animais
- D) Pessoas
- E) Cura

20- Chickenpox, measles and mumps (line 04) are:

- A) Diseases
- B) Not diseases
- C) Names of hospitals
- D) Children's plays
- E) Children's names

Leia com atenção o texto e responda às questões 21 e 22.

Smoking

Most people in Britain today don't smoke. Cigarettes are expensive (about £ 2.50 a pack of 20) and there are no cigarette advertisements on television. In public places now you will see "No Smoking" signs – in restaurants, on trains, in airports. Non-smokers get very annoyed if people smoke in these places. Among young people more girls smoke than boys: about 25% of girls smoke, but only 20% of boys. It is illegal to buy cigarettes until you are 16. Pupils are not allowed to smoke in school.

(In: Hotline – elementary. Hutchinson, T.Ed. Oxford, 1999)

21-Analise as afirmativas abaixo e escreva 'V' para as verdadeiras e 'F' para as falsas.

- I. Na Inglaterra, a maioria das pessoas não fuma na atualidade.
- II. Somente os jovens estão deixando de fumar na Inglaterra.
- III. O símbolo "não fume" pode ser visto em locais, como restaurantes, trens e aeroportos daquele país.
- IV. Na televisão inglesa há, ainda, alguns programas que são patrocinados por fabricantes de cigarro.

A opção correta é:

- A) V V F F
- B) V F F F
- C) V F V V
- D) V F V F
- E) F F V V

22- No 3º parágrafo, temos a informação de que:

- A) Entrem os jovens, são as garotas que fumam mais.
- B) Mais de 20% dos rapazes fumam quando estão com as garotas.
- C) Em relação ao público jovem, apenas 25% dos rapazes e moças fumam.

MATEMÁTICA

- D) Entre os jovens, os rapazes fumam mais do que as garotas.
E) 25% dos fumantes são jovens.

Leia o texto e responda às questões 23, 24 e 25.

Staying alive

How are you living? What are you doing to keep yourself healthy? Are you not eating and sleeping accordingly? Are you working and worrying too much? Aren't you exercising? Even being very useful, these questions are often boring to answer. If you are taking care of your life, congratulations!!

But if you are smoking cigarettes, cigars or pipes; making use of drugs like pot, cocaine or crack; drinking alcoholic beverages in excess; eating too much and sleeping late, my sympathy!!!! You are entering the roll of people facing actual risky factors. Your chances of a long and healthy life are not high. At least, these are some of the medical conclusions all over the world.

23- O que você não pode deduzir do texto?

- A) Devemos comer com moderação.
B) Você deve levantar e acordar cedo.
C) Deve-se dormir adequadamente.
D) É importante nos preocuparmos com a saúde.
E) Devemos praticar exercícios físicos.

24- O texto apresenta:

- A) Questionamentos e alertas sobre qualidade de vida.
B) Dicas e deveres.
C) Indicações e avisos.
D) Receitas e sugestões.
E) Escolhas e deveres.


25- Assinale a alternativa que apresenta a mesma estrutura gramatical da frase abaixo, extraída do texto:

"Are you working and worrying too much?"

- A) She will be working a lot next weekend!
B) Would they be playing soccer next week?
C) Aren't you exercising?
D) He won't be studying so much now.
E) You aren't being nice with her, will you?

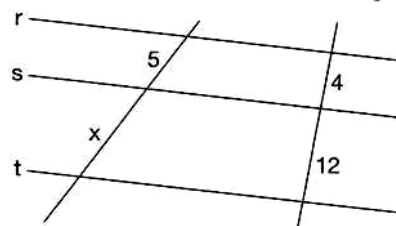
26- Analise a figura abaixo (um motorista avança em um poste e causa um acidente) e responda qual era a altura do poste baseando-se nos dados da ilustração:

- A) 5m
B) 7m
C) 9m
D) 11m
E) 13m



27- O valor de "x" na figura abaixo, sabendo que r//s//t // paralelo, é:

- A) 5m
B) 10m
C) 12m
D) 15m
E) 20m



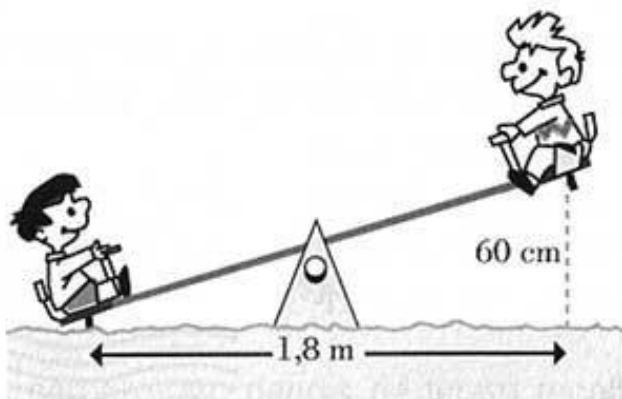
28- Um grupo de 80 alunos organizou uma excursão. Eles contrataram uma empresa de ônibus que cobrou R\$ 2,20 por aluno. O coordenador do grupo pagou com 2 cédulas de R\$ 100,00. O troco exato pôde ser dado em:

- A) 6 cédulas de R\$ 1,00 + 3 cédulas de R\$ 10,00.
B) 6 cédulas de R\$ 5,00 + 4 cédulas de R\$ 1,00.
C) 4 cédulas de R\$ 1,00 + 2 cédulas de R\$ 10,00.
D) 25 cédulas de R\$ 1,00 + 4 moedas de R\$ 0,25.
E) 3 cédulas de R\$ 10,00 + 4 cédulas de R\$ 1,00

29- Uma caixa-d'água tem a forma de um bloco retangular de 2,5 m de comprimento, 1,5 m de largura e 1,6 m de altura. Isso significa que:

- A) a capacidade da caixa é de 600 litros.
- B) na caixa cabem mais de 6000 litros.
- C) o volume da caixa é de 60 m³.
- D) uma torneira que despeja 50 litros de água por minuto na caixa enche-a em 2 horas.
- E) A capacidade da caixa d'água é menor que 600 litros.

30- O Pedro e o João estão brincando de gangorra, como indica a figura:



A altura máxima a que pode subir cada um dos amigos é de 60cm. O comprimento da gangorra é de aproximadamente:

- A) 160 cm
- B) 170 cm
- C) 180 cm
- D) 190 cm
- E) 200 cm

31- Um feirante compra 2 maçãs por R\$ 0,75. Ao revendê-las, cobra R\$ 3,00 meia dúzia. Quantas maçãs o feirante precisa vender para lucrar R\$ 50,00?

- A) 40
- B) 52
- C) 100
- D) 200
- E) 400

32- Assinale a sentença verdadeira:

- A) 6% = 6/100 = 0,6
- B) 13% = 13/100 = 1,3
- C) 140% = 140/100 = 1,4
- D) 20,5% = 205/100 = 0,0205
- E) 2,5% = 25/100 = 0,25

33- Em certo país, uma lei só é aprovada se 3/5 dos senadores votarem favoravelmente a ela. Se 56% do Senado estão a favor de certo projeto de lei, que fração ainda falta para aprová-lo?

- A) 1/10
- B) 2/25
- C) 1/25
- D) 1/50
- E) 7/1000

34- Numa eleição com 2 candidatos, votaram 3 850 eleitores. O candidato A obteve 1.032 votos e o candidato B conquistou 2.048 votos. Qual foi a porcentagem de votos nulos ou em branco?

- A) 40%
- B) 35%
- C) 30%
- D) 25%
- E) 20%

35- Aplicado a taxa de juros simples de 20% ao trimestre, um capital de R\$ 100.000,00 rende, ao longo de 15 meses, um total de juro no valor de:

- A) R\$ 30.000,00
- B) R\$ 60.000,00
- C) R\$ 80.000,00
- D) R\$ 100.000,00
- E) R\$ 150.000,00

36- Quantos metros percorre uma pessoa que dá 20 voltas completas numa pista circular de 8m de raio?

- A) 800m
- B) 950m
- C) 1004,80m
- D) 750m
- E) 1705m

37- Qual é a área de um triângulo retângulo cuja hipotenusa mede 13cm e um dos catetos mede 5cm?

- A) 25cm²
- B) 30cm²
- C) 14cm²
- D) 27cm²
- E) 36cm²

38-Assinale o resultado de $x^2 + 7x = 0$

- A) (-7,0)
- B) (3,8)
- C) (4,7)
- D) (-5,2)
- E) (7,0)

39-Assinale o resultado de $\frac{2x+5}{3} - \frac{4x-9}{6} = \frac{3-4x}{2}$

- A) 3
- B) 8
- C) 7
- D) $-\frac{5}{6}$
- E) 9

40- A área de um trapézio é de 39m². A base maior mede 17m e a altura mede 3m. Qual é a medida da base menor?

- A) 15m
- B) 13m
- C) 23m
- D) 9m
- E) 12m

CONHECIMENTOS GERAIS

41- Assinale a alternativa que expressa a decisão tomada nos últimos dias de março de 2011 pelo Supremo Tribunal Federal a respeito da Lei da Ficha Limpa, que impedia 149 candidatos de tomarem posse por causa de condenações judiciais:

- A) Anulou-a totalmente.
- B) Excluiu do seu alcance as eleições de 2010.
- C) Impetrou mandado de segurança contra os partidos autores do anteprojeto de lei.
- D) Promulgou a Lei da Ficha Suja.
- E) Limitou o seu alcance fazendo-a valer apenas para as prefeituras municipais.

42- O presidente dos Estados Unidos

- A) fez uma visita oficial ao Brasil neste ano de 2011.
- B) agendou uma visita oficial mas, pressionado pelo Oriente Médio, teve de cancelá-la.
- C) realizou uma visita ao Brasil sem caráter oficial, tanto que veio acompanhado de toda a sua família.
- D) impossibilitado de vir oficialmente ao Brasil, forçou a ida de Dilma Rousseff ao Pentágono.
- E) condicionou qualquer visita oficial ao Brasil à presença do ex-presidente Luiz Inácio Lula da Silva.

43- O desastre que atingiu o Japão no dia 11 de março de 2011 foi consequência de:

- A) *Tsunami* seguido de terremoto
- B) Tempestade seguida de *tsunami*
- C) Maremoto seguido de terremoto
- D) Tufão seguido de maremoto
- E) Terremoto seguido de *tsunami*

44- A tragédia provocada pelas grandes chuvas no Rio de Janeiro no início deste ano de 2011, as quais causaram deslizamentos e enormes destruições em quatro cidades, tem também muito a ver principalmente com:

- A) a multiplicação de favelas próximas aos centros urbanos e o efeito estufa.
- B) a ocupação irregular do solo e a falta de infraestrutura.
- C) o crescimento populacional descontrolado e aumento do lixo rural não tratado.
- D) a poluição dos esgotos e a grande quantidade de lagoas e pesqueiros na área urbana.
- E) os entulhos de construção despejados nas favelas os quais descem para o esgoto e impedem a passagem das nuvens de chuva.

45- No Brasil, a carga horária mínima (número de aulas, número de dias letivos) dos ensinos fundamental e médio das escolas públicas e particulares:

- A) é estabelecida por lei federal - Lei de Diretrizes e Bases da Educação Nacional.
- B) é estabelecida por lei estadual, portanto é variável de estado para estado.
- C) é estabelecida por lei municipal.
- D) somente pode ser estabelecida por município com mais de duzentos mil habitantes.
- E) é variável dependendo de um entendimento entre os diretores das unidades escolares.

46- Em fevereiro de 2008, anunciou sua renúncia do cargo de presidente e comandante militar após permanecer 49 anos no poder.

Assinale a alternativa que preenche corretamente as lacunas:

- A) Hosni Mubarak – do Egito
- B) Muammar Gadafi – da Líbia
- C) Yasser Arafat – da Palestina
- D) Baby Doc – do Haiti
- E) Fidel Castro – de Cuba

47- O ECA – Estatuto da Criança e do Adolescente:

- A) Focaliza apenas os direitos universais da criança.
- B) Limita-se a estabelecer os deveres dos adultos para com as crianças e adolescentes.
- C) Tem por principal objetivo a proteção integral da criança e do adolescente e a sua formação.
- D) Depois da aprovação da lei conhecida como Maria da Penha, inclui também a proteção integral à mulher.
- E) Atualmente inclui também o amparo aos idosos que comprovem ter um rendimento familiar abaixo de três salários mínimos.

48- No dia 05 deste mês de maio de 2011, o Supremo Tribunal Federal emitiu, a respeito da união homossexual, um Parecer:

- A) que dá aos casais homossexuais os mesmos direitos legais dos casais heterossexuais.
- B) que dá aos casais homossexuais os mesmos direitos legais dos casais heterossexuais, mas exclui a adoção.
- C) que dá aos casais homossexuais os mesmos direitos legais dos casais heterossexuais, mas sem direito a nenhuma aposentadoria ou pensão.
- D) favorável à união familiar estável de homem com homem, daí o nome “união gay”, mas não à união familiar estável de mulher com mulher.
- E) que não reconhece como legítimas as uniões familiares homossexuais.

49-Sobre Geografia é correto afirmar:

- A) Amazonas e Amazônia são palavras sinônimas, portanto podem ser usadas indistintamente.
- B) Manaus é uma capital cujo porto marítimo é tão bem equipado e movimentado quanto o de Santos.
- C) Brasília sempre foi a capital do Brasil e não existem sinais de que, num futuro próximo, seja a capital deslocada para outra região.
- D) A capital do Estado de São Paulo é a Grande São Paulo e a do Estado do Rio de Janeiro é a Grande Rio.
- E) As palavras fronteira, divisa e limite são aplicadas respectivamente para a delimitação territorial de países (exemplo: *A fronteira do Brasil com o Paraguai*), estados (exemplo: *Tal rio faz divisa do estado de São Paulo com Minas Gerais.*) e municípios (exemplo: *Campinas tem como limite ao sul o município...*)

50- Encerrada a ditadura militar no Brasil,, o primeiro presidente eleito pelo povo, não chegou ao término de seu mandato, foi deposto em 1992 (impeachment) e teve por oito anos suspensos os seus direitos políticos.

Assinale a alternativa que completa corretamente as lacunas:

- A) Itamar Franco – indiretamente
- B) José Sarney – indiretamente
- C) Fernando Collor de Mello – indiretamente
- D) José Sarney – diretamente
- E) Fernando Collor de Mello – diretamente